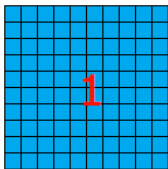

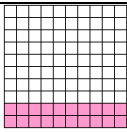
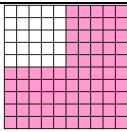

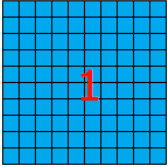
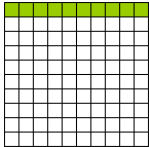
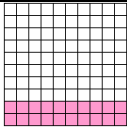
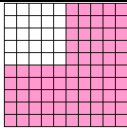
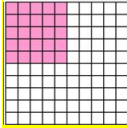


<p><b>Consigne : Entoure la réponse qui convient</b></p>  <p><i>Pour les questions 1 et 2 l'unité choisie correspond au carré ci-dessus.</i></p>	<p><b>Réponses</b></p>
<p><b>Question 1</b></p> <p>1. le pourcentage correspondant à la fraction colorée du dessin est</p> 	<p>A ► 1%</p> <p><b>B ► 10%</b></p> <p>C ► 2%</p> <p>D ► Je ne sais pas</p>
<p><b>Question 2</b></p> <p>2. 25% correspond à la fraction colorée de</p>	<p>A ► </p> <p>B ► </p> <p><b>C ► </b></p> <p>D ► Je ne sais pas</p>
<p><b>Question 3</b></p> <p>Dans une école il y a 300 élèves, 50% des élèves viennent à l'école en cars scolaires, les autres viennent à pied. <b>Combien d'élèves viennent à pied à l'école ?</b></p>	<p>A ► 50</p> <p><b>B ► 150</b></p> <p>C ► 300</p> <p>D ► Je ne sais pas</p>
<p><b>Question 4</b></p> <p>Dans une école de 300 élèves, il y a 40 % de garçons <b>Combien y a-t-il de garçons ?</b></p>	<p><b>A ► 3 x 40</b></p> <p>B ► 300 x 40</p> <p>C ► 100 x 40</p> <p>D ► Je ne sais pas</p>

Correction pour le professeur : **Evaluation NF3**

- Question 1 : A ► 0 ; B ► 1 ; C ► 0 ; D ► 0  
 Question 2 : A ► 0 ; B ► 0 ; C ► 1 ; D ► 0  
 Question 3 : A ► 0 ; B ► 1 ; C ► 0 ; D ► 0  
 Question 4 : A ► 1 ; B ► 0 ; C ► 0 ; D ► 0

<p><b>Consigne : Entoure la réponse qui convient</b></p>  <p><i>Pour les questions 1 et 2 l'unité choisie correspond au carré ci-dessus.</i></p>	<p><b>Réponses</b></p>
<p><b>Question 1</b></p> <p>1. le pourcentage correspondant à la fraction colorée du dessin est</p> 	<p>A ► 1%</p> <p>B ► 10%</p> <p>C ► 2%</p> <p>D ► Je ne sais pas</p>
<p><b>Question 2</b></p> <p>2. 25% correspond à la fraction colorée de</p>	<p>A ► </p> <p>B ► </p> <p>C ► </p> <p>D ► Je ne sais pas</p>
<p><b>Question 3</b></p> <p>Dans une école il y a 300 élèves, 50% des élèves viennent à l'école en cars scolaires, les autres viennent à pied. <b>Combien d'élèves viennent à pied à l'école ?</b></p>	<p>A ► 50</p> <p>B ► 150</p> <p>C ► 300</p> <p>D ► Je ne sais pas</p>
<p><b>Question 4</b></p> <p>Dans une école de 300 élèves, il y a 40 % de garçons <b>Combien y a-t-il de garçons ?</b></p>	<p>A ► 3 x 40</p> <p>B ► 300 x 40</p> <p>C ► 100 x 40</p> <p>D ► Je ne sais pas</p>