





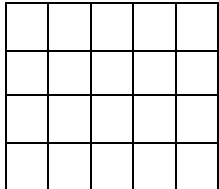
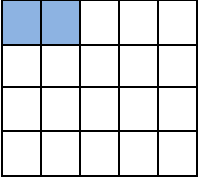
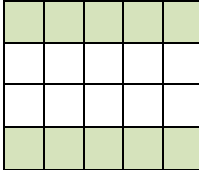



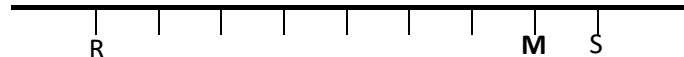
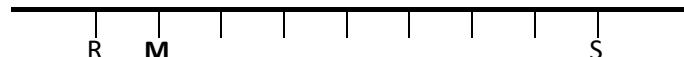


• **CM2 : évaluation NF1**

<p align="center">Consigne :</p> <p>Entoure la réponse qui convient</p>	<p align="center">Réponses</p>				
<p align="center">question 1</p> <p align="center">Question 1</p> <p>La bande A est la bande unité. La longueur de la bande B est ?</p> <table border="1" data-bbox="124 501 711 741"> <tr> <td data-bbox="124 501 193 629">1</td> <td data-bbox="193 501 711 629">  A </td> </tr> <tr> <td data-bbox="124 629 193 741">?</td> <td data-bbox="193 629 711 741">  B </td> </tr> </table>	1	 A	?	 B	<p>A ► 9</p> <p>B ► $2 + \frac{1}{4}$</p> <p>C ► $1 + \frac{3}{8}$</p> <p>D ► Je ne sais pas</p>
1	 A				
?	 B				
<p align="center">question 2</p> <p>Colorie la partie qui représente la fraction $\frac{2}{5}$</p> <div data-bbox="368 882 587 1070" style="text-align: center;">  </div>	<p>A ► </p> <p>B ► </p> <p>C ► </p> <p>D ► Je ne sais pas</p>				
<p align="center">question 3</p> <p>Partage le segment [RS] en 8 parties égales et place le point M qui correspond à $\frac{9}{8}$.</p> <div data-bbox="132 1641 831 1704" style="text-align: center;">  </div>	<p>A ► </p> <p>B ► </p> <p>C ► </p> <p>D ► Je ne sais pas</p>				

question 4

Pour leur goûter, les enfants Léo, Lili, Emma et Jules se partagent 12 barres de chocolat.
Léo en prend le tiers, Jules en prend le sixième et Emma en prend le quart.

Quelle fraction de chocolat reste-t-il à Lili ?



A ► $\frac{1}{4}$

B ► $\frac{1}{2}$

C ► 3

D ► Je ne sais pas








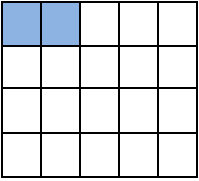
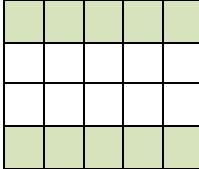



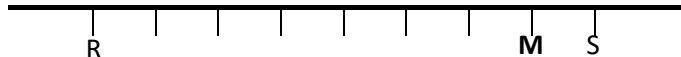
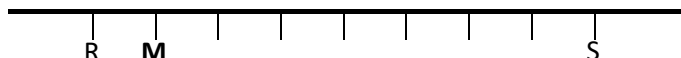
Pour le prof **Evaluation NF2**

Question 1 : A ► 0 ; B ► 1 ; C ► 0 ; D ► 0

Question 2 : A ► 0 ; B ► 0 ; C ► 1 ; D ► 0

Question 3 : A ► 1 ; B ► 0 ; C ► 0 ; D ► 0

Question 4 : A ► 1 ; B ► 0 ; C ► 0 ; D ► 0

<p align="center">Consigne :</p> <p>Entoure la réponse qui convient</p>	<p align="center">Réponses</p>				
<p align="center">Question 1</p> <p>La bande A est la bande unité. La longueur de la bande B est ?</p> <table border="1" style="width: 100%; border-collapse: collapse;"> <tr> <td style="width: 50px; text-align: center; vertical-align: middle;">1</td> <td style="text-align: center;">  A </td> </tr> <tr> <td style="text-align: center; vertical-align: middle;">?</td> <td style="text-align: center;">  B </td> </tr> </table>	1	 A	?	 B	<p>A ► 9</p> <p>B ► $2 + \frac{1}{4}$</p> <p>C ► $1 + \frac{3}{8}$</p> <p>D ► Je ne sais pas</p>
1	 A				
?	 B				
<p align="center">Question 2</p> <p>Colorie la partie qui représente la fraction $\frac{2}{5}$</p> <div style="text-align: center;">  </div>	<p>A ► </p> <p>B ► </p> <p>C ► </p> <p>D ► Je ne sais pas</p>				
<p align="center">question 3</p> <p>Partage le segment [RS] en 8 parties égales et place le point M qui correspond à $\frac{9}{8}$.</p> <div style="text-align: center;">  </div>	<p>A ► </p> <p>B ► </p> <p>C ► </p> <p>D ► Je ne sais pas</p>				

Question 4

Pour leur goûter, les enfants Léo, Lili, Emma et Jules se partagent 12 barres de chocolat.

Léo en prend le tiers, Jules en prend le sixième et Emma en prend le quart.

Quelle fraction de chocolat reste-t-il à Lili ?



A ► $\frac{1}{4}$

B ► $\frac{1}{2}$

C ► 3

D ► Je ne sais pas