





EVALUATION : Domaine de compétence **N**

Utiliser et représenter les grands nombres entiers, des fractions simples, des nombres décimaux

Evaluation ND2

Consignes	Réponses
<p><i>Entoure la réponse qui convient</i></p> <p>Question 1</p>  <p>Le nombre indiqué par la flèche est ?</p>	<p>A ► 0,8</p> <p>B ► 0,73</p> <p>C ► 0,75</p> <p>D ► je ne sais pas</p>
<p>Question 2</p>  <p>Le nombre indiqué par la flèche est ?</p>	<p>A ► 4,525</p> <p>B ► 4,523</p> <p>C ► 4,54</p> <p>D ► je ne sais pas</p>
<p>Question 3</p>  <p>Entre 6,1 et 6,17 on peut trouver ?</p>	<p>A ► 6,154</p> <p>B ► 6,02</p> <p>C ► 6,19</p> <p>D ► je ne sais pas</p>
<p>Question 4</p>  <p>le nombre 8,72 est compris entre ?</p>	<p>A ► 8,7 et 8,71</p> <p>B ► 8,722 et 8,723</p> <p>C ► 8,718 et 8,722</p> <p>D ► je ne sais pas</p>





Correction pour le professeur : **Evaluation ND2**

Question 1 : A ► 0 ; B ► 0 ; C ► 1 ; D ► 0

Question 2 : A ► 0 ; B ► 1 ; C ► 0 ; D ► 0

Question 3 : A ► 1 ; B ► 0 ; C ► 0 ; D ► 0

Question 4 : A ► 0 ; B ► 0 ; C ► 1 ; D ► 0

<p style="text-align: center;"><i>Consignes</i></p> <p><i>Entoure la réponse qui convient</i></p>	<p style="text-align: center;"><i>Réponses</i></p>
<p style="text-align: center;">Question 1</p> <div style="text-align: center;">  </div> <p>Le nombre indiqué par la flèche est ?</p>	<p>A ► 0,8</p> <p>B ► 0,73</p> <p>C ► 0,75</p> <p>D ► je ne sais pas</p>
<p style="text-align: center;">Question 2</p> <div style="text-align: center;">  </div> <p>Le nombre indiqué par la flèche est ?</p>	<p>A ► 4,525</p> <p>B ► 4,523</p> <p>C ► 4,54</p> <p>D ► je ne sais pas</p>
<p style="text-align: center;">Question 3</p> <div style="text-align: center;">  </div> <p>Entre 6,1 et 6,17 on peut trouver ?</p>	<p>A ► 6,154</p> <p>B ► 6,02</p> <p>C ► 6,19</p> <p>D ► je ne sais pas</p>
<p style="text-align: center;">Question 4</p> <div style="text-align: center;">  </div> <p>le nombre 8,72 est compris entre ?</p>	<p>A ► 8,7 et 8,71</p> <p>B ► 8,722 et 8,723</p> <p>C ► 8,718 et 8,722</p> <p>D ► je ne sais pas</p>