

EVALUATION CM2 : Domaine de compétence **M**

Connaitre, estimer et mesurer des grandeurs





M 11 : relier les unités de mesures et les unités de numération grands nombres et nombres décimaux) : relier les décimaux à la vie courante et aux mesures

réponses aux questions	Parcours d'entraînement individualisé
4 réponses correctes	activités ***
2 ou 3 réponses correctes	activités **
0 ou 1 réponse correcte	activités *

Page 2 : Fiche pour l'élève

Evaluation avec correction

La réponse juste est indiquée en rouge (avec récapitulatif en bas de page)

Consignes <i>Entoure la réponse qui convient</i>	Réponses
<p>Question 1</p>  <p>Si le nombre 1 correspond à une pièce de 1€, la pièce qui correspond au nombre 0,5 est ...?</p>	<p>A ► 5 ct</p> <p>B ► 50 ct</p> <p>C ► 500 ct</p> <p>D ► je ne sais pas</p>
<p>Question 2</p>  <p>Si le nombre 1 correspond à une pièce de 1€, la pièce qui correspond au nombre 0,05 est ...?</p>	<p>A ► 5 ct</p> <p>B ► 50 ct</p> <p>C ► 500 ct</p> <p>D ► je ne sais pas</p>
<p>Question 3</p>  <p>Si une longueur de 1 m correspond au nombre 1, le nombre décimal qui correspond à 1 cm est.... ?</p>	<p>A ► 0,1</p> <p>B ► 0,01</p> <p>C ► 0,001</p> <p>D ► je ne sais pas</p>
<p>Question 4 1 gramme</p>  <p>Si une masse de 1g correspond au nombre 1, la masse qui correspond au nombre 3,4 est.... ?</p>	<p>A ► 3 g 4 mg</p> <p>B ► 3 g 40 mg</p> <p>C ► 3g 400 mg</p> <p>D ► je ne sais pas</p>

Correction pour le professeur : **Evaluation M11**

Question 1 : A ► 0 ; B ► 1 ; C ► 0 ; D ► 0





Question 2 : A ► 1 ; B ► 0 ; C ► 0 ; D ► 0

Question 3 : A ► 0 ; B ► 1 ; C ► 0 ; D ► 0

Question 4 : A ► 0 ; B ► 0 ; C ► 1 ; D ► 0

Prénom : _____

CM2 - Evaluation M11

<p align="center">Consignes</p> <p><i>Entoure la réponse qui convient</i></p>	<p align="center">Réponses</p>
<p align="center">Question 1</p>  <p>Si le nombre 1 correspond à une pièce de 1€, la pièce qui correspond au nombre 0,5 est ...?</p>	<p>A ► 5 ct B ► 50 ct C ► 500 ct D ► je ne sais pas</p>
<p align="center">Question 2</p>  <p>Si le nombre 1 correspond à une pièce de 1€, la pièce qui correspond au nombre 0,05 est ...?</p>	<p>A ► 5 ct B ► 50 ct C ► 500 ct D ► je ne sais pas</p>
<p align="center">Question 3</p>  <p>Si une longueur de 1 m correspond au nombre 1, le nombre décimal qui correspond à 1 cm est.... ?</p>	<p>A ► 0,1 B ► 0,01 C ► 0,001 D ► je ne sais pas</p>
<p align="center">Question 4</p> <p align="center">1 gramme</p>  <p>Si une masse de 1g correspond au nombre 1, la masse qui correspond au nombre 3,4 est.... ?</p>	<p>A ► 3 g 4 mg B ► 3 g 40 mg C ► 3g 400 mg D ► je ne sais pas</p>