

EVALUATION CM2 : Domaine de compétence M

Connaitre, estimer et mesurer des grandeurs

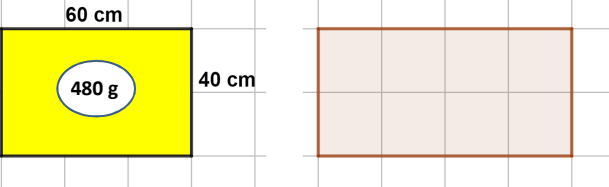
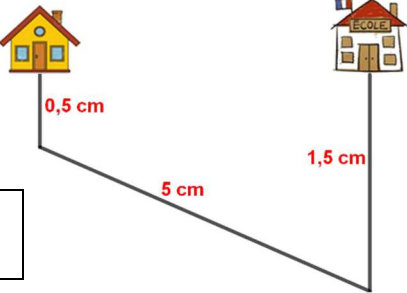
M10 : Identifier une situation de proportionnalité entre deux grandeurs (distance parcourue et temps écoulé, quantité d'essence consommée et distance parcourue, quantité de liquide écoulée et temps écoulé, etc)

réponses aux questions	Parcours d'entraînement individualisé
4 réponses correctes	activités ***
2 ou 3 réponses correctes	activités **
0 ou 1 réponse correcte	activités *

Page 2 : Fiche pour l'élève

Evaluation avec correction

La réponse juste est indiquée en rouge (avec récapitulatif en bas de page)

Consignes :	Réponses
Entoure la réponse qui convient	
<p>Question 1</p> <p>Une tablette de chocolat de 300 g contient 120 g de cacao. Combien y a-t-il de grammes de cacao dans 5 tablettes de chocolat ?</p>	<p>A ► 1 500 g B ► 600 g C ► 500 g D ► Je ne sais pas</p>
<p>Question 2</p> <p>Un magasin coupe deux plaques de contreplaqué. L'une pèse 480g.</p>  <p>Combien pèse l'autre plaque de contreplaqué ?</p>	<p>A ► 640 g B ► 720 g C ► 960 g D ► Je ne sais pas</p>
<p>Question 3</p> <p>Pierre achète 12 madeleines. Il paye 4 euros. Combien peut-il acheter des madeleines avec 7 euros ?</p>	<p>A ► 15 madeleines B ► 21 madeleines C ► 36 madeleines C ► Je ne sais pas</p>
<p>Question 4</p> <p>Observe le dessin et les réponses proposées : la longueur du chemin pour aller de la maison à l'école est : La réponse fausse est ...</p>  <div style="border: 1px solid black; padding: 5px; width: fit-content; margin: 10px auto;"> <p>1 cm sur le plan c'est 10 000 cm sur le terrain</p> </div>	<p>A ► le chemin mesure 7 cm sur le plan B ► le chemin mesure 70 m sur le terrain C ► le chemin mesure 700 m sur le terrain D ► Je ne sais pas</p>

Correction pour le professeur : **Evaluation M10**

Question 1 : A ► 0 ; B ► 1 ; C ► 0 ; D ► 0

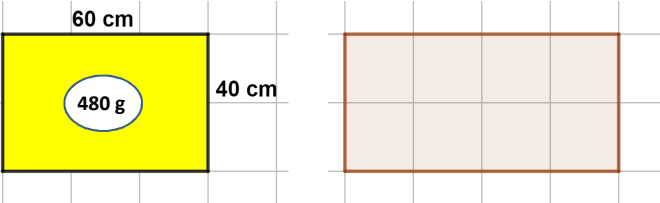
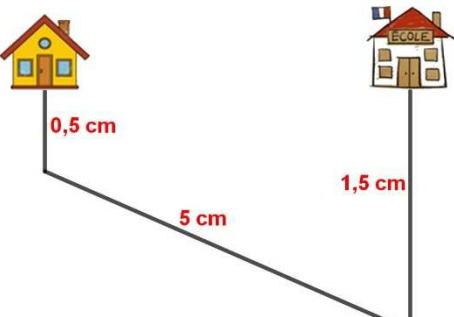
Question 2 : A ► 1 ; B ► 0 ; C ► 0 ; D ► 0

Question 3 : A ► 0 ; B ► 1 ; C ► 0 ; D ► 0

Question 4 : A ► 0 ; B ► 1 ; C ► 0 ; D ► 0

Prénom : _____

CM2 - Evaluation M10

<p align="center">Consignes :</p> <p><i>Entoure la réponse qui convient</i></p>	<p align="center">Réponses</p>
<p align="center">Question 1</p> <p>Une tablette de chocolat de 300 g contient 120 g de cacao. Combien y a-t-il de grammes de cacao dans 5 tablettes de chocolat ?</p>	<p>A ► 1 500 g B ► 600 g C ► 500 g D ► Je ne sais pas</p>
<p align="center">Question 2</p> <p>Un magasin coupe deux plaques de contreplaqué. L'une pèse 480g.</p>  <p>Combien pèse l'autre plaque de contreplaqué ?</p>	<p>A ► 640 g B ► 720 g C ► 960 g D ► Je ne sais pas</p>
<p align="center">Question 3</p> <p>Pierre achète 12 madeleines. Il paye 4 euros. Combien peut-il acheter des madeleines avec 7 euros ?</p>	<p>A ► 15 madeleines B ► 21 madeleines C ► 36 madeleines D ► Je ne sais pas</p>
<p align="center">Question 4</p> <p>Observe le dessin et les réponses proposées : la longueur du chemin pour aller de la maison à l'école est : La réponse fausse est ...</p> <div style="border: 1px solid black; padding: 5px; width: fit-content; margin: 10px auto;"> <p>1 cm sur le plan c'est 10 000 cm sur le terrain.</p> </div> 	<p>A ► le chemin mesure 7 cm sur le plan B ► le chemin mesure 70 m sur le terrain C ► le chemin mesure 700 m sur le terrain D ► Je ne sais pas</p>