

EVALUATION : Domaine de compétence **N****Utiliser et représenter les grands nombres entiers, des fractions simples, des nombres décimaux****NF1** : comprendre et utiliser la notion de fraction simple inférieure à 1

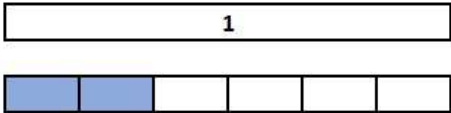
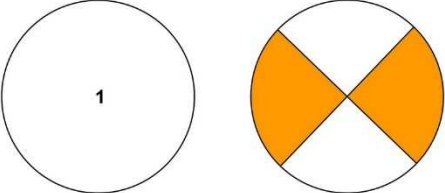





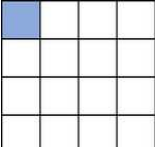
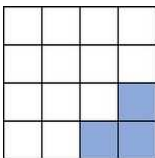
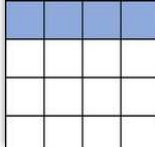
Réponses aux questions	Parcours d'entraînement individualisé
4 réponses correctes 2 ou 3 réponses correctes 0 ou 1 réponse correcte	activités *** activités ** activités *

Page 2 : évaluation avec correction pour le professeur :

La réponse juste est indiquée en rouge (avec récapitulatif en bas de page)

Pages 3 : évaluation pour les élèves en cas de passation sur feuille.

Evaluation NF1

<p>Consigne : Entoure la réponse qui convient</p>	<p>Réponses</p>
<p>Question 1</p>  <p>La fraction de la bande représentée par la partie coloriée est ?</p>	<p>A ► <input checked="" type="radio"/> $\frac{2}{6}$</p> <p>B ► <input type="radio"/> $\frac{2}{5}$</p> <p>C ► <input type="radio"/> $\frac{2}{3}$</p> <p>D ► <input type="radio"/> Je ne sais pas</p>
<p>Question 2</p>  <p>La fraction du cercle représentée par la partie coloriée est ?</p>	<p>A ► <input type="radio"/> $\frac{2}{3}$</p> <p>B ► <input checked="" type="radio"/> $\frac{1}{2}$</p> <p>C ► <input type="radio"/> $\frac{1}{4}$</p> <p>D ► <input type="radio"/> Je ne sais pas</p>
<p>Question 3</p>  <p>La bande qui correspond à la fraction $\frac{1}{4}$ est ?</p>	<p>A ► <input type="radio"/> </p> <p>B ► <input checked="" type="radio"/> </p> <p>C ► <input type="radio"/> </p> <p>D ► <input type="radio"/> Je ne sais pas</p>
<p>Question 4</p>  <p>A quelle figure correspond la fraction $\frac{1}{4}$?</p>	<p>A ► <input type="radio"/> </p> <p>B ► <input type="radio"/> </p> <p>C ► <input checked="" type="radio"/> </p> <p>D ► <input type="radio"/> je ne sais pas</p>

Correction pour le professeur : Evaluation NF1

Question 1 : A ► 1 ; B ► 0 ; C ► 0 ; D ► 0

Question 2 : A ► 0 ; B ► 1 ; C ► 0 ; D ► 0

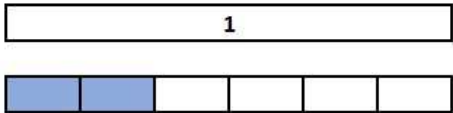
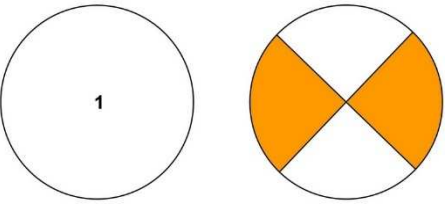






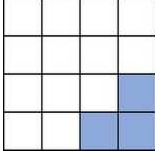

Question 3 : A ► 0 ; B ► 1 ; C ► 0 ; D ► 0

Question 4 : A ► 0 ; B ► 0 ; C ► 1 ; D ► 0

PRENOM :

Evaluation NF1

Consigne : Pour chaque question entoure la réponse qui convient

Questions	Réponses
<p>Question 1</p>  <p>La fraction de la bande représentée par la partie coloriée est ?</p>	<p>A ► $\frac{2}{6}$</p> <p>B ► $\frac{2}{5}$</p> <p>C ► $\frac{2}{3}$</p> <p>D ► Je ne sais pas</p>
<p>Question 2</p>  <p>La fraction du cercle représentée par la partie coloriée est ?</p>	<p>A ► $\frac{2}{3}$</p> <p>B ► $\frac{1}{2}$</p> <p>C ► $\frac{1}{4}$</p> <p>D ► Je ne sais pas</p>
<p>Question 3</p>  <p>La bande qui correspond à la fraction $\frac{1}{4}$ est ?</p>	<p>A ► </p> <p>B ► </p> <p>C ► </p> <p>D ► Je ne sais pas</p>
<p>Question 4</p>  <p>A quelle figure correspond la fraction $\frac{1}{4}$?</p>	<p>A ► </p> <p>B ► </p> <p>C ► </p> <p>D ► je ne sais pas</p>