

EVALUATION : Domaine de compétence **N****Utiliser et représenter les grands nombres entiers, des fractions simples, des nombres décimaux****NE5** : Repérer et placer des nombres sur une demi-droite graduée

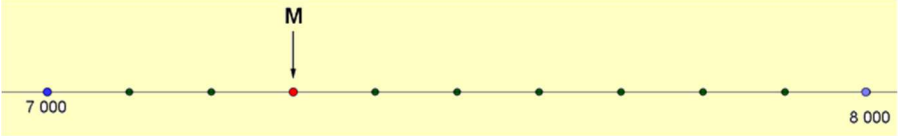
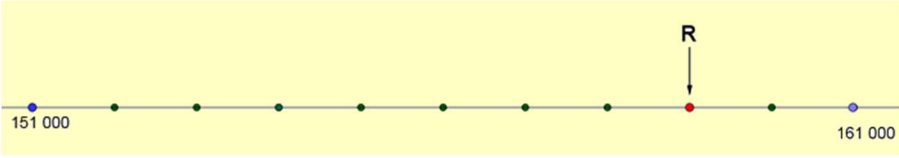
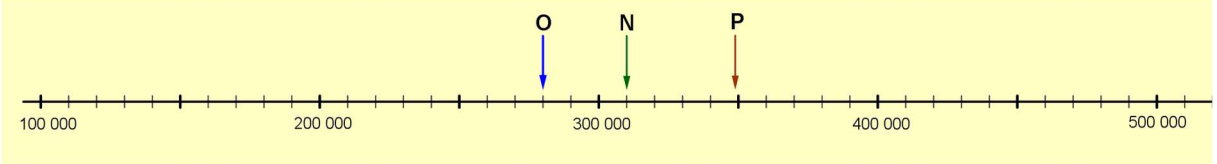
Réponses aux questions	Parcours d'entraînement individualisé
4 réponses correctes 2 ou 3 réponses correctes 0 ou 1 réponse correcte	activités *** activités ** activités *

Page 2 : évaluation avec correction pour l'enseignant

La réponse juste est indiquée en rouge (avec récapitulatif en bas de page)

Page 3 : évaluation pour les élèves en cas de passation sur feuille.

Evaluation NE5

Consigne : Entoure la réponse qui convient	Réponses
<p>Question 1 Quel nombre représente la lettre M ?</p> 	<p>A ► 7 400 B ► 7 300 C ► 7 030 D ► Je ne sais pas</p>
<p>Question 2 Quel nombre représente la lettre R ?</p> 	<p>A ► 160 000 B ► 159 000 C ► 151 800 D ► Je ne sais pas</p>
	
<p>Question 3 A quelle lettre correspond exactement le nombre 280 000 sur la droite graduée ci-dessus ?</p>	<p>A ► lettre O B ► lettre N C ► lettre P D ► Je ne sais pas</p>
<p>Question 4 A quelle lettre correspond approximativement le nombre 349 000 sur la droite graduée ?</p>	<p>A ► lettre O B ► lettre N C ► lettre P D ► Je ne sais pas</p>

Correction pour le professeur Evaluation NE5

Question 1 : A ► 0 ; B ► 1 ; C ► 0 ; D ► 0

Question 2 : A ► 0 ; B ► 1 ; C ► 0 ; D ► 0

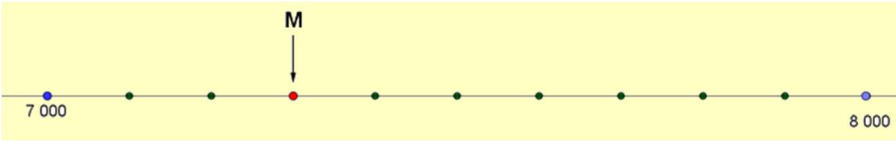

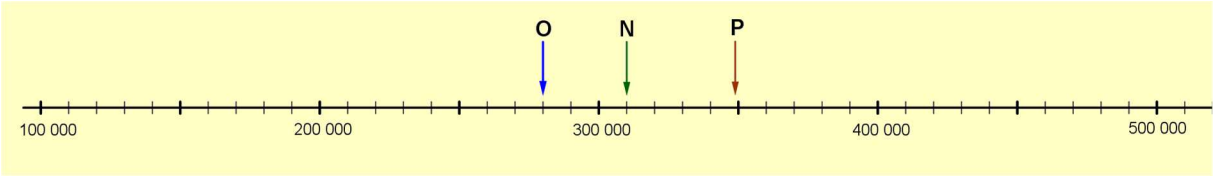
Question 3 : A ► 1 ; B ► 0 ; C ► 0 ; D ► 0

Question 4 : A ► 0 ; B ► 0 ; C ► 1 ; D ► 0

PRENOM :

Evaluation NE5

Consigne : Pour chaque question entoure la réponse qui convient

Questions	Réponses
<p style="text-align: center;">Question 1</p> <p>Quel nombre représente la lettre M ?</p> 	<p>A ► 7 400</p> <p>B ► 7 300</p> <p>C ► 7 030</p> <p>D ► Je ne sais pas</p>
<p style="text-align: center;">Question 2</p> <p>Quel nombre représente la lettre R ?</p> 	<p>A ► 160 000</p> <p>B ► 159 000</p> <p>C ► 151 800</p> <p>D ► Je ne sais pas</p>
	
<p style="text-align: center;">Question 3</p> <p>A quelle lettre correspond exactement le nombre 280 000 sur la droite graduée ci-dessus ?</p>	<p>A ► lettre O</p> <p>B ► lettre N</p> <p>C ► lettre P</p> <p>D ► Je ne sais pas</p>
<p style="text-align: center;">Question 4</p> <p>A quelle lettre correspond approximativement le nombre 349 000 sur la droite graduée ?</p>	<p>A ► lettre O</p> <p>B ► lettre N</p> <p>C ► lettre P</p> <p>D ► Je ne sais pas</p>