

EVALUATION : Domaine de compétence M
Connaitre, estimer et mesurer des grandeurs

M8 : comparer ou mesurer des contenances (avec ou sans mesures)






Réponses aux questions	Parcours d'entraînement individualisé
4 réponses correctes 2 ou 3 réponses correctes 0 ou 1 réponse correcte	activités *** activités ** activités *

Page 2 : évaluation avec correction pour l'enseignant

La réponse juste est indiquée en rouge (avec récapitulatif en bas de page)

Page 3 : évaluation pour les élèves en cas de passation sur feuille.

Evaluation M8

<p align="center">Consignes</p> <p><i>Entoure la réponse qui convient</i></p>	<p align="center">Réponses</p>
<p align="center">Question 1</p>  <p>Combien de cL contient 1  ?</p>	<p>A ► 20 cL</p> <p><u>B ► 25 cL</u></p> <p>C ► 50 cL</p> <p>D ► je ne sais pas</p>
<p align="center">Question 2</p>  <p>La mesure qui convient est ?</p>	<p><u>A ► 5 hL</u></p> <p>B ► 5 L</p> <p>C ► 5 daL</p> <p>D ► je ne sais pas</p>
<p align="center">Question 3</p>  <p>La mesure qui convient est ?</p>	<p>A ► 800 hL</p> <p>B ► 800 dL</p> <p><u>C ► 800 cL</u></p> <p>D ► je ne sais pas</p>
<p align="center">Question 4</p>  <p>La bouteille qui a la plus grande contenance est ?</p>	<p><u>A ► 38 dL</u></p> <p>B ► 3520 mL</p> <p>C ► 341 cL</p> <p>D ► je ne sais pas</p>

Correction pour le professeur : **Evaluation M8**

Question 1 : A ► 0 ; B ► 1 ; C ► 0 ; D ► 0






Question 2 : A ► 1 ; B ► 0 ; C ► 0 ; D ► 0

Question 3 : A ► 0 ; B ► 0 ; C ► 1 ; D ► 0

Question 4 : A ► 1 ; B ► 0 ; C ► 0 ; D ► 0

PRENOM :

Evaluation M8

<p align="center">Consignes</p> <p><i>Entoure la réponse qui convient</i></p>	<p align="center">Réponses</p>
<p align="center">Question 1</p>  <p>Combien de cL contient 1  ?</p>	<p>A ► 20 cL</p> <p>B ► 25 cL</p> <p>C ► 50 cL</p> <p>D ► je ne sais pas</p>
<p align="center">Question 2</p>  <p>La mesure qui convient est ?</p>	<p>A ► 5 hL</p> <p>B ► 5 L</p> <p>C ► 5 daL</p> <p>D ► je ne sais pas</p>
<p align="center">Question 3</p>  <p>La mesure qui convient est ?</p>	<p>A ► 800 hL</p> <p>B ► 800 dL</p> <p>C ► 800 cL</p> <p>D ► je ne sais pas</p>
<p align="center">Question 4</p>  <p>La bouteille qui a la plus grande contenance est ?</p>	<p>A ► 38 dL</p> <p>B ► 3520 mL</p> <p>C ► 341 cL</p> <p>D ► je ne sais pas</p>