

**EVALUATION : Domaine de compétence M**  
**Connaitre, estimer et mesurer des grandeurs**

**M7** : différencier aire et périmètre d'une surface


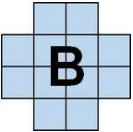

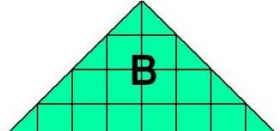
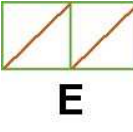
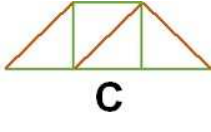
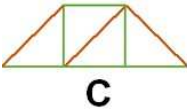
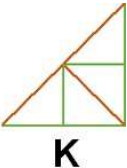
Réponses aux questions	Parcours d'entraînement individualisé
4 réponses correctes 2 ou 3 réponses correctes 0 ou 1 réponse correcte	activités *** activités ** activités *

**Page 2** : évaluation avec correction pour l'enseignant

La réponse juste est indiquée en rouge (avec récapitulatif en bas de page)

**Page 3** : évaluation pour les élèves en cas de passation sur feuille.

Evaluation M7

<p align="center"><b>Consignes</b></p> <p><i>Entoure la réponse qui convient</i></p>	<p align="center"><b>Réponses</b></p>
<p align="center"><b>Question 1</b></p> <div style="display: flex; justify-content: space-around; align-items: center;">   </div> <p>Compare les périmètres et les surfaces des figures A et B. La phrase correcte est ?</p>	<p>A ► A et B ont le même périmètre et la même aire</p> <p><b><u>B ► A et B ont le même périmètre et l'aire de A est plus grande que celle de B</u></b></p> <p>C ► A et B ont le même périmètre et l'aire de A est plus petite que celle de B</p> <p>D ► je ne sais pas</p>
<p align="center"><b>Question 2</b></p> <div style="display: flex; justify-content: space-around; align-items: center;">   </div> <p>Compare les périmètres et les surfaces des figures A et C. La phrase correcte est ?</p>	<p>A ► A et B ont la même aire et le même périmètre</p> <p>B ► A et B ont la même aire et le périmètre de A est plus grand que celui de B</p> <p><b><u>C ► A et B ont la même aire et le périmètre de A est plus petit que celui de B</u></b></p> <p>D ► je ne sais pas</p>
<p align="center"><b>Question 3</b></p> <div style="display: flex; justify-content: space-around; align-items: center;">   </div> <p>Compare les périmètres et les surfaces des figures C et E. Les figures E et C ont ?</p>	<p>A ► même aire, même périmètre</p> <p>B ► même périmètre, aire différente</p> <p><b><u>C ► même aire, périmètre différent</u></b></p> <p>D ► je ne sais pas</p>
<p align="center"><b>Question 4</b></p> <div style="display: flex; justify-content: space-around; align-items: center;">   </div> <p>Compare les périmètres et les surfaces des figures K et C. Les figures C et K ont ?</p>	<p>A ► même périmètre et aire différente</p> <p>B ► même aire et même forme</p> <p><b><u>C ► même périmètre, même aire, forme différente</u></b></p> <p>D ► je ne sais pas</p>

Correction pour le professeur : **Evaluation M7**

Question 1 : A ► 0 ; B ► 1 ; C ► 0 ; D ► 0


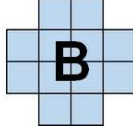
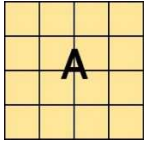
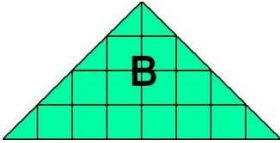
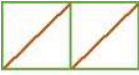

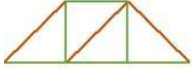
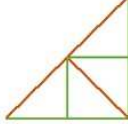
Question 2 : A ► 0 ; B ► 0 ; C ► 1 ; D ► 0

Question 3 : A ► 0 ; B ► 0 ; C ► 1 ; D ► 0

Question 4 : A ► 0 ; B ► 0 ; C ► 1 ; D ► 0

PRENOM :

Evaluation M7

<p align="center"><b>Consignes</b></p> <p><i>Entoure la réponse qui convient</i></p>	<p align="center"><b>Réponses</b></p>
<p align="center"><b>Question 1</b></p> <div style="display: flex; justify-content: space-around; align-items: center;">   </div> <p>Compare les périmètres et les surfaces des figures A et B. La phrase correcte est ?</p>	<p>A ► A et B ont le même périmètre et la même aire</p> <p>B ► A et B ont le même périmètre et l'aire de A est plus grande que celle de B</p> <p>C ► A et B ont le même périmètre et l'aire de A est plus petite que celle de B</p> <p>D ► je ne sais pas</p>
<p align="center"><b>Question 2</b></p> <div style="display: flex; justify-content: space-around; align-items: center;">   </div> <p>Compare les périmètres et les surfaces des figures A et C. La phrase correcte est ?</p>	<p>A ► A et B ont la même aire et le même périmètre</p> <p>B ► A et B ont la même aire et le périmètre de A est plus grand que celui de B</p> <p>C ► A et B ont la même aire et le périmètre de A est plus petit que celui de B</p> <p>D ► je ne sais pas</p>
<p align="center"><b>Question 3</b></p> <div style="display: flex; justify-content: space-around; align-items: center;">   </div> <p>Compare les périmètres et les surfaces des figures C et E. Les figures E et C ont ?</p>	<p>A ► même aire, même périmètre</p> <p>B ► même périmètre, aire différente</p> <p>C ► même aire, périmètre différent</p> <p>D ► je ne sais pas</p>
<p align="center"><b>Question 4</b></p> <div style="display: flex; justify-content: space-around; align-items: center;">   </div> <p>Compare les périmètres et les surfaces des figures K et C. Les figures C et K ont ?</p>	<p>A ► même périmètre et aire différente</p> <p>B ► même aire et même forme</p> <p>C ► même périmètre, même aire, forme différente</p> <p>D ► je ne sais pas</p>