

**EVALUATION : Domaine de compétence M**  
**Connaitre, estimer et mesurer des grandeurs**

**M5** : comparer, classer et ranger des surfaces selon leurs aires

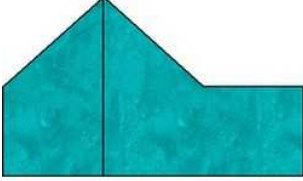
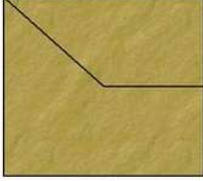
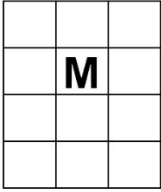
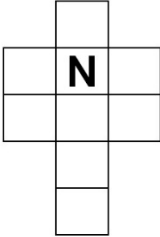

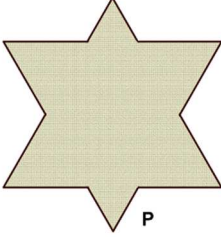
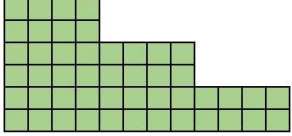
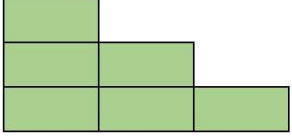
Réponses aux questions	Parcours d'entraînement individualisé
4 réponses correctes 2 ou 3 réponses correctes 0 ou 1 réponse correcte	activités *** activités ** activités *

**Page 2** : évaluation avec correction pour l'enseignant

La réponse juste est indiquée en rouge (avec récapitulatif en bas de page)

**Page 3** : évaluation pour les élèves en cas de passation sur feuille.

Evaluation M5

Consignes : Entoure la réponse qui convient	Réponses
<p style="text-align: center;"><b>Question 1</b></p> <div style="display: flex; justify-content: space-around; align-items: center;">   </div> <p style="text-align: center;"><b>K</b>                      <b>L</b></p> <p><b>Compare les surfaces K et L : La surface K est ?</b></p>	<p>A ► plus petite que la surface L</p> <p>B ► plus grande que la surface L</p> <p><b>C ► égale à la surface L</b></p> <p>D ► je ne sais pas</p>
<p style="text-align: center;"><b>Question 2</b></p> <div style="display: flex; justify-content: space-around; align-items: center;">   </div> <p style="text-align: center;"><b>M</b>                      <b>N</b></p> <p><b>La figure qui a la surface la plus petite est ?</b></p>	<p>A ► M</p> <p><b>B ► N</b></p> <p>C ► M et N ont la même surface</p> <p>D ► je ne sais pas</p>
<p style="text-align: center;"><b>Question 3</b></p> <div style="display: flex; justify-content: space-around; align-items: center;">   </div> <p style="text-align: center;"><b>O</b>                      <b>P</b></p> <p><b>La figure qui a la surface la plus grande est ?</b></p>	<p>A ► O</p> <p><b>B ► P</b></p> <p>C ► O et P ont la même surface</p> <p>D ► je ne sais pas</p>
<p style="text-align: center;"><b>Question 4</b></p> <div style="display: flex; justify-content: space-around; align-items: center;">   </div> <p style="text-align: center;"><b>R</b>                      <b>S</b></p> <p><b>Compare les surfaces des figures S et R : la surface R est ?</b></p>	<p>A ► plus petite que la surface S</p> <p>B ► plus grande que la surface S</p> <p><b>C ► égale à la surface S</b></p> <p>D ► je ne sais pas</p>

Correction pour le professeur : **Evaluation M5**

Question 1 : A ► 0 ; B ► 0 ; C ► 1 ; D ► 0

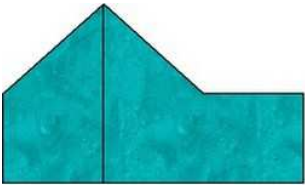
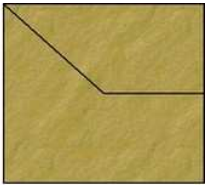
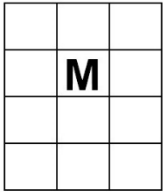
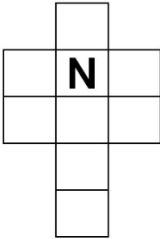


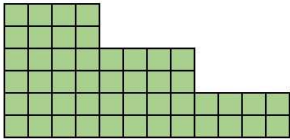
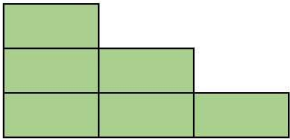
Question 2 : A ► 0 ; B ► 1 ; C ► 0 ; D ► 0

Question 3 : A ► 0 ; B ► 1 ; C ► 0 ; D ► 0

Question 4 : A ► 0 ; B ► 0 ; C ► 1 ; D ► 0

PRENOM :

Evaluation M5

Consignes : Entoure la réponse qui convient	Réponses
<p style="text-align: center;"><b>Question 1</b></p> <div style="display: flex; justify-content: space-around; align-items: center;">   </div> <p style="text-align: center;"><b>K</b>                      <b>L</b></p> <p><b>Compare les surfaces K et L : La surface K est ?</b></p>	<p>A ► plus petite que la surface <b>L</b></p> <p>B ► plus grande que la surface <b>L</b></p> <p>C ► égale à la surface <b>L</b></p> <p>D ► je ne sais pas</p>
<p style="text-align: center;"><b>Question 2</b></p> <div style="display: flex; justify-content: space-around; align-items: center;">   </div> <p style="text-align: center;"><b>M</b>                      <b>N</b></p> <p><b>La figure qui a la surface la plus petite est ?</b></p>	<p>A ► M</p> <p>B ► N</p> <p>C ► M et N ont la même surface</p> <p>D ► je ne sais pas</p>
<p style="text-align: center;"><b>Question 3</b></p> <div style="display: flex; justify-content: space-around; align-items: center;">   </div> <p style="text-align: center;"><b>O</b>                      <b>P</b></p> <p><b>La figure qui a la surface la plus grande est ?</b></p>	<p>A ► O</p> <p>B ► P</p> <p>C ► O et P ont la même surface</p> <p>D ► je ne sais pas</p>
<p style="text-align: center;"><b>Question 4</b></p> <div style="display: flex; justify-content: space-around; align-items: center;">   </div> <p style="text-align: center;"><b>R</b>                      <b>S</b></p> <p><b>Compare les surfaces des figures S et R : la surface R est ?</b></p>	<p>A ► plus petite que la surface <b>S</b></p> <p>B ► plus grande que la surface <b>S</b></p> <p>C ► égale à la surface <b>S</b></p> <p>D ► je ne sais pas</p>