

EVALUATION : Domaine de compétence M
Connaitre, estimer et mesurer des grandeurs

M 11 : relier les unités de mesures et les unités de numération





Réponses aux questions	Parcours d'entraînement individualisé
4 réponses correctes 2 ou 3 réponses correctes 0 ou 1 réponse correcte	activités *** activités ** activités *

Page 2 : évaluation avec correction pour l'enseignant

La réponse juste est indiquée en rouge (avec récapitulatif en bas de page)

Page 3 : évaluation pour les élèves en cas de passation sur feuille.

Evaluation M11

<p align="center">Consignes</p> <p><i>Entoure la réponse qui convient</i></p>	<p align="center">Réponses</p>
<p align="center">Question 1</p>  <p>Si une somme d'argent de 1€ représente l'unité, la pièce qui correspond à $\frac{1}{10}$ est ?</p>	<p>A ► 1 ct B ► 10 ct C ► 100 ct D ► je ne sais pas</p>
<p align="center">Question 2</p>  <p>Si une somme d'argent de 1€ représente l'unité, la pièce qui correspond à $\frac{50}{100}$ est ?</p>	<p>A ► 50 ct B ► 5 ct C ► 2 ct D ► je ne sais pas</p>
<p align="center">Question 3</p>  <p>Si une longueur de 1 m représente l'unité, la fraction qui correspond à 1 cm est ?</p>	<p>A ► $\frac{1}{10}$ B ► $\frac{1}{100}$ C ► $\frac{1}{1000}$ D ► je ne sais pas</p>
<p align="center">Question 4</p>  <p>Si une masse de 1 kg représente l'unité, la masse qui correspond à $2 + \frac{3}{10}$ est ?</p>	<p>A ► 2 kg 3 g B ► 2 kg 30 g C ► 2kg 300 g D ► je ne sais pas</p>

Correction pour le professeur : **Evaluation M11**

Question 1 : A ► 0 ; B ► 1 ; C ► 0 ; D ► 0





Question 2 : A ► 1 ; B ► 0 ; C ► 0 ; D ► 0

Question 3 : A ► 0 ; B ► 1 ; C ► 0 ; D ► 0

Question 4 : A ► 0 ; B ► 0 ; C ► 1 ; D ► 0

PRENOM :

Evaluation M11

Consignes <i>Entoure la réponse qui convient</i>	Réponses
<p align="center">Question 1</p>  <p>Si une somme d'argent de 1€ représente l'unité, la pièce qui correspond à $\frac{1}{10}$ est ?</p>	<p>A ► 1 ct B ► 10 ct C ► 100 ct D ► je ne sais pas</p>
<p align="center">Question 2</p>  <p>Si une somme d'argent de 1€ représente l'unité, la pièce qui correspond à $\frac{50}{100}$ est ?</p>	<p>A ► 50 ct B ► 5 ct C ► 2 ct D ► je ne sais pas</p>
<p align="center">Question 3</p>  <p>Si une longueur de 1 m représente l'unité, la fraction qui correspond à 1 cm est ?</p>	<p>A ► $\frac{1}{10}$ B ► $\frac{1}{100}$ C ► $\frac{1}{1000}$ D ► je ne sais pas</p>
<p align="center">Question 4</p>  <p>Si une masse de 1 kg représente l'unité, la masse qui correspond à $2 + \frac{3}{10}$ est ?</p>	<p>A ► 2 kg 3 g B ► 2 kg 30 g C ► 2kg 300 g D ► je ne sais pas</p>