

EVALUATION : Domaine de compétence **G**

Reconnaitre, nommer, décrire, reproduire, représenter, construire des figures et solides géométriques usuels

G6 : reconnaître qu'une figure est symétrique et trouver ses axes de symétrie

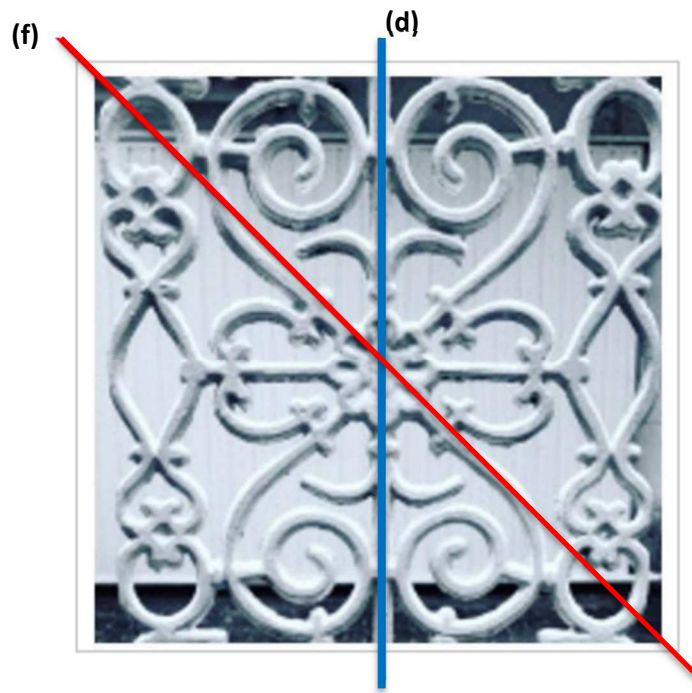
Réponses aux questions	Parcours d'entraînement individualisé
4 réponses correctes 2 ou 3 réponses correctes 0 ou 1 réponse correcte	activités *** activités ** activités *

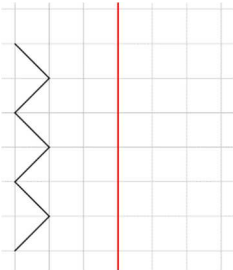
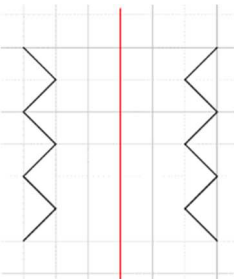
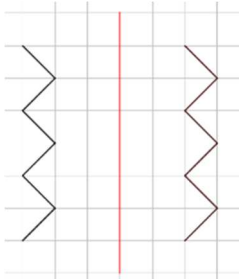
Pages 2 et 3 : évaluation avec correction pour l'enseignant

La réponse juste est indiquée en rouge (avec récapitulatif en bas de page)

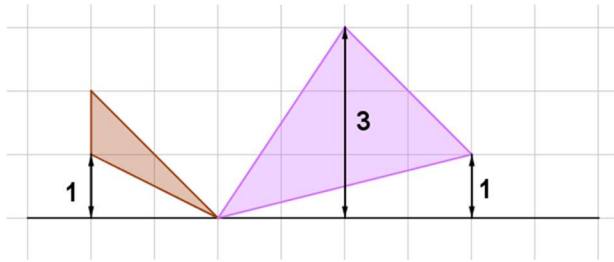
Pages 4 et 5 : évaluation pour les élèves en cas de passation sur feuille.

Evaluation G6

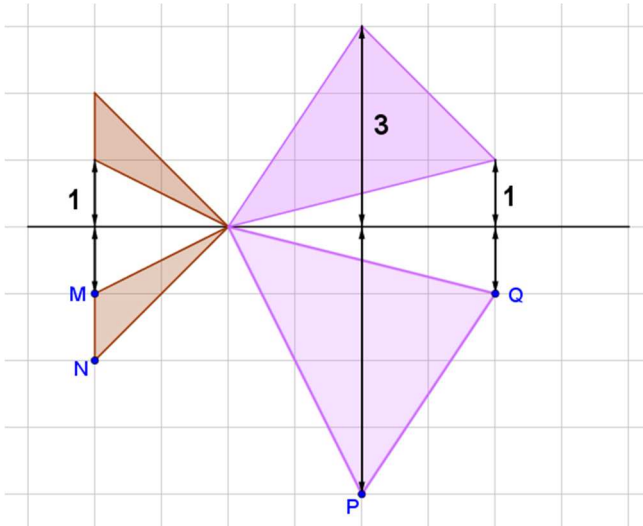


<i>Consigne : Entoure la réponse qui convient</i>	<i>Réponses</i>
<p align="center">Question 1</p> <p>La droite bleue (d) est-elle un axe de symétrie pour la figure ?</p>	<p>A ► OUI B ► NON C ► Je ne sais pas</p>
<p align="center">Question 2</p> <p>La droite rouge (f) est-elle un axe de symétrie pour la figure ?</p>	<p>A ► OUI B ► NON C ► Je ne sais pas</p>
<p align="center">Question 3</p>  <p>Le symétrique du dessin par rapport à l'axe rouge est ?</p> <div style="display: flex; justify-content: space-around;"> <div data-bbox="204 1621 438 1899">  <p align="center">Dessin 1</p> </div> <div data-bbox="560 1621 799 1899">  <p align="center">Dessin 2</p> </div> </div>	<p>A ► dessin 1 B ► dessin 2 C ► Je ne sais pas</p>

Question 4



Léo veut dessiner le symétrique de cette figure par rapport à l'axe horizontal mais il a fait une erreur.



Le point mal placé est ?
Entoure la lettre qui convient

- A ► le point M
- B ► le point N
- C ► le point Q
- D ► le point P
- E ► Je ne sais pas

Correction pour le professeur - Evaluation G6

Question 1 : A ► 1 ; B ► 0 ; C ► 0


Question 2 : A ► 0 ; B ► 1 ; C ► 0

Question 3 : A ► 1 ; B ► 0 ; C ► 0

Question 4 : A ► 0 ; B ► 0 ; C ► 0 ; D ► 1 ; E ► 0

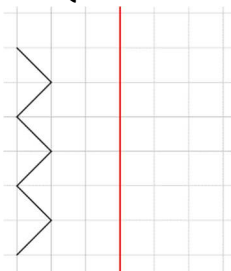
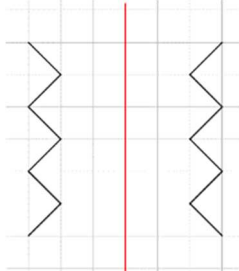
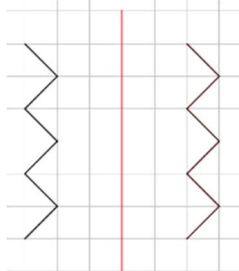
PRENOM :

Evaluation G6

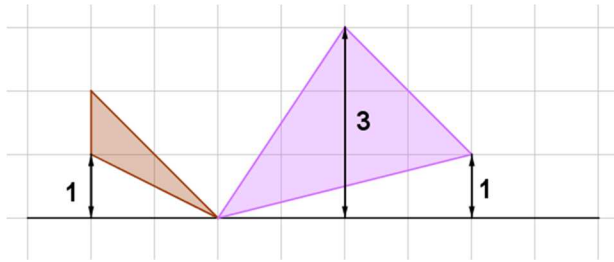


Consigne : Pour
réponse qui convient

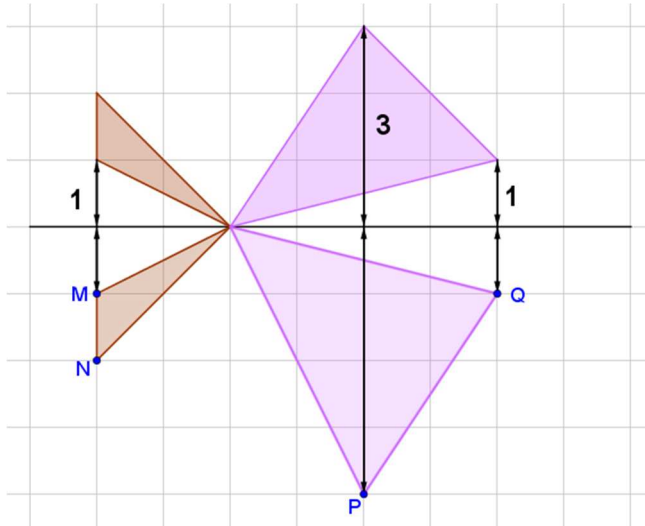
chaque question entoure la

Questions	Réponses
<p>Question 1</p> <p>La droite (d) est-elle un axe de symétrie pour la figure ?</p>	<p>A ► OUI B ► NON C ► Je ne sais pas</p>
<p>Question 2</p> <p>La droite (f) est-elle un axe de symétrie pour la figure ?</p>	<p>A ► OUI B ► NON C ► Je ne sais pas</p>
<p>Question 3</p>  <p>Le symétrique du dessin par rapport à l'axe rouge est ?</p>  <p>Dessin 1</p>  <p>Dessin 2</p>	<p>A ► Dessin 1 B ► Dessin 2 C ► Je ne sais pas</p>

Question 4



Léo veut dessiner le symétrique de cette figure par rapport à l'axe horizontal mais il a fait une erreur.



Le point mal placé est ?
Entoure la lettre qui convient

- A ► le point M
- B ► le point N
- C ► le point Q
- D ► le point P
- E ► Je ne sais pas