

NE5 : Repérer et placer des nombres sur une demi-droite graduée

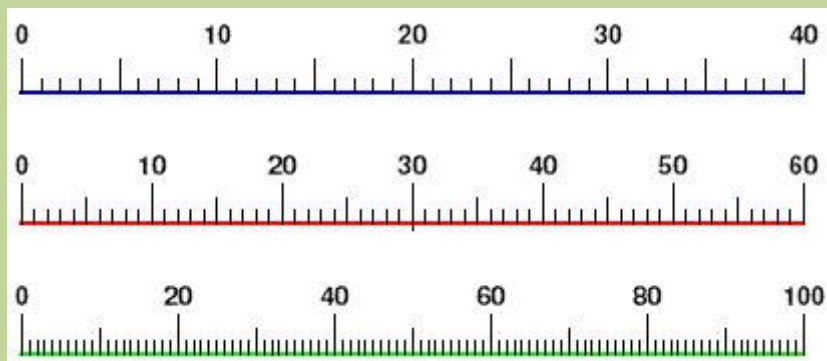
Activités Niveau 3 étoiles

Pages 2 et 3 : Activités individuelles avec corrigé

Page 4 : Fiches d'activités pour les élèves pour passation sur feuille

Tableau d'aide à photocopier pour passation sur feuille

Pour graduer une droite on peut utiliser les nombres entiers



11. Place les nombres ci-dessous sur la droite graduée

M : 3 200 000

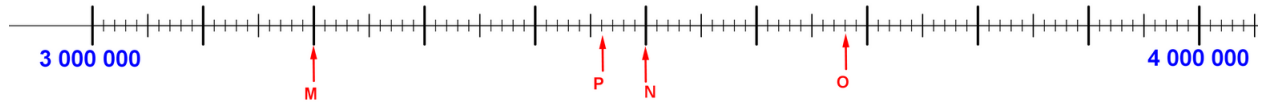
N : 3 500 000

O : 3 680 000

P : 3 460 000



corrections



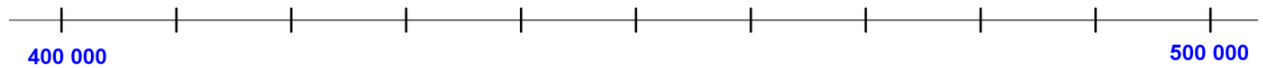
12. place approximativement les nombres suivants sur la droite graduée

A : 497 628

B : 403 698

C : 430 698

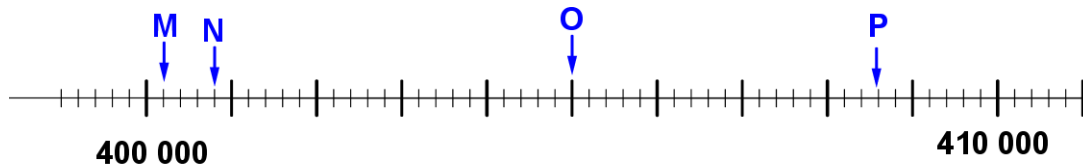
D : 473 214



Corrigé



13. Ecris les nombres repérés par les flèches



Corrections

M = 400 200

N = 400 800

O = 405 000

P = 408 600

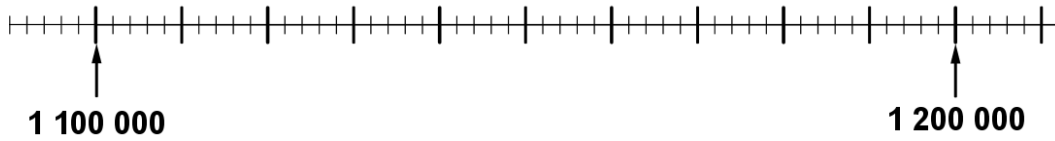
14. Place les nombres ci-dessous sur la droite graduée

M : 1 120 000

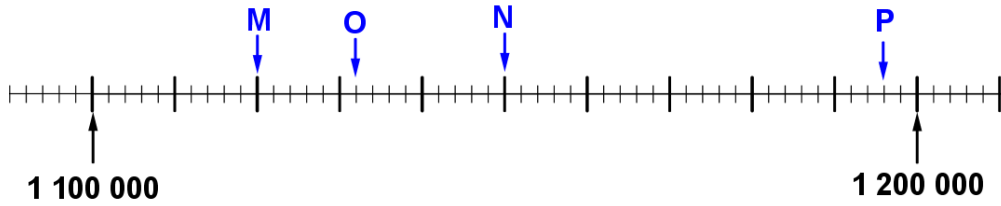
N : 1 150 000

O : 1 132 000

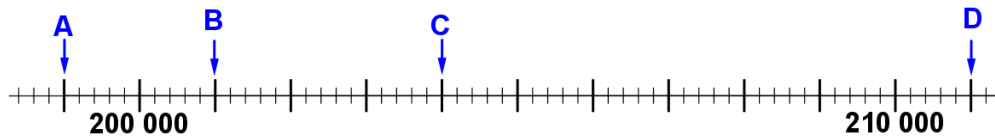
P : 1 196 000



corrections



15. Ecris les nombres repérés par les flèches



Corrections

A = 199 900

B = 201 000

C = 204 000

D = 211 000

Prénom : _____

Activités ***

11. Place les nombres ci-dessous sur la droite graduée

M : 3 200 000 N : 3 500 000 O : 3 680 000 P : 3 460 000

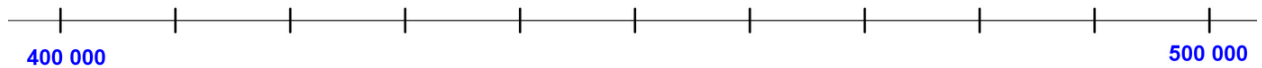


3 000 000

4 000 000

12. place approximativement les nombres suivants sur la droite graduée

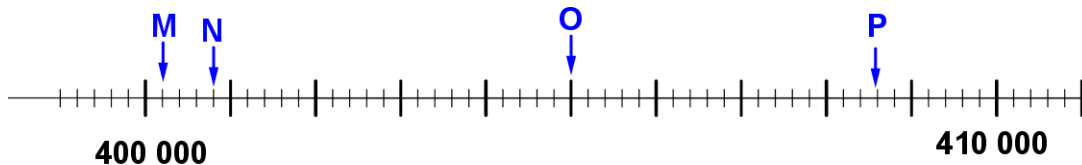
A : 497 628 B : 403 698 C : 430 698 D : 473 214



400 000

500 000

13. Ecris les nombres repérés par les flèches



400 000

410 000

Nombre M = _____

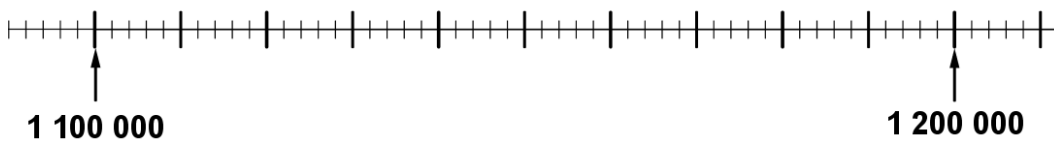
Nombre N = _____

Nombre O = _____

Nombre P = _____

14. Place les nombres ci-dessous sur la droite graduée

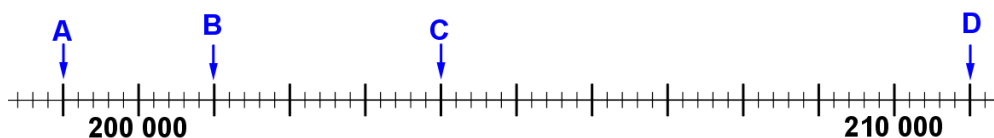
M : 1 120 000 N : 1 150 000 O : 1 132 000 P : 1 196 000



1 100 000

1 200 000

15. Ecris les nombres repérés par les flèches



200 000

210 000

Nombre A = _____

Nombre B = _____

Nombre C = _____

Nombre D = _____