

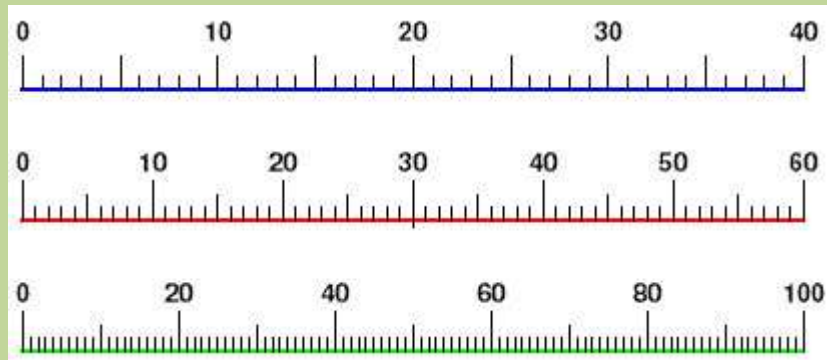
NE5 : Repérer et placer des nombres sur une demi-droite graduée**Activités Niveau 2 étoiles**

Pages 2 et 3 : Activités individuelles avec corrigé

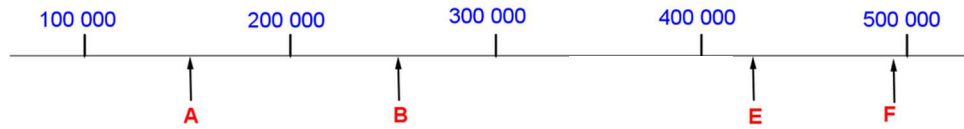
Page 4 : Fiches d'activités pour les élèves pour passation sur feuille

Tableau d'aide à photocopier pour passation sur feuille

Pour graduer une droite on peut utiliser les nombres entiers



6. Associe chaque lettre placée sur la droite graduée approximativement au nombre correspondant :

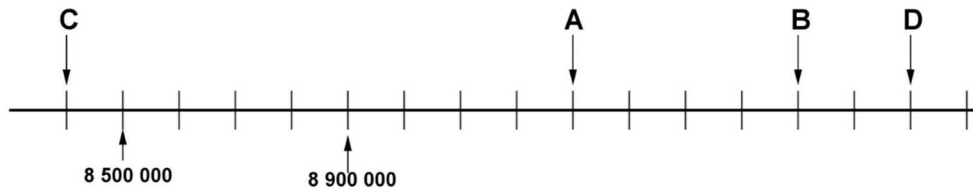


- a. 425 000 b. 252 000 c. 151 000 d. 493 000

Corrections

- a. 425 000 correspond approximativement à E
- b. 252 000 correspond approximativement à B
- c. 151 000 correspond approximativement à A
- d. 493 000 correspond approximativement à F

7. Utilise la droite graduée ci-dessous pour trouver :
les nombres A ; B ; C et D

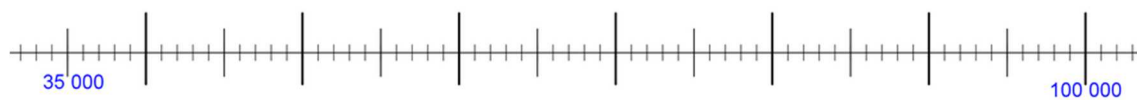


Corrections

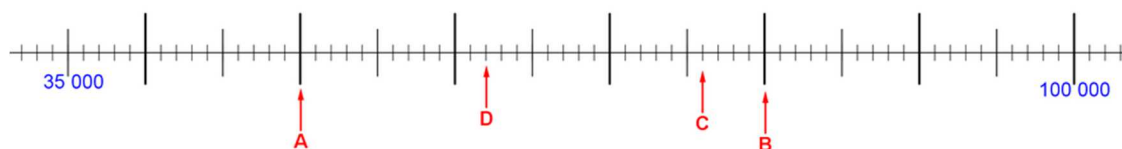
- A = 9 300 000 B = 9 700 000 C = 8 400 000 D = 9 900 000

8. place les nombres ci-dessous sur la droite graduée

- A : 50 000 B : 80 000 C : 76 000 D : 62 000



Corrections



9. place les nombres ci-dessous sur la droite graduée

M : 200 000

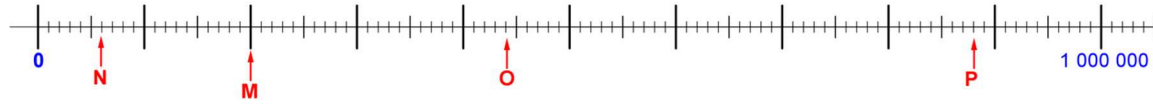
N : 60 000

O : 440 000

P : 880 000



corrections



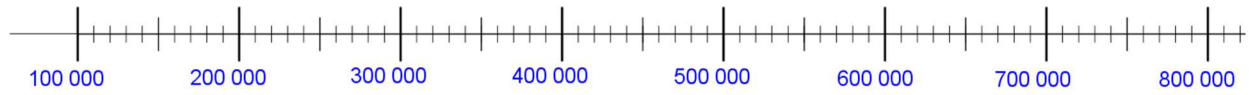
10. place approximativement les nombres ci-dessous sur la droite graduée

A ▶ 456 732

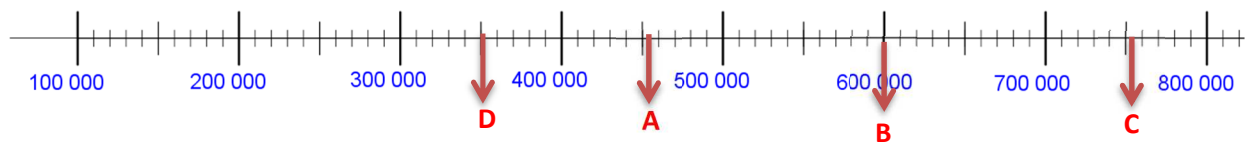
B ▶ 600 043

C ▶ 753 200

D ▶ 350 012



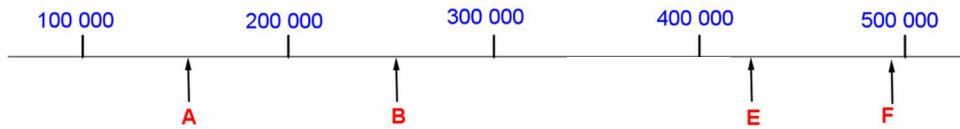
Corrections



Prénom : _____

Activités **

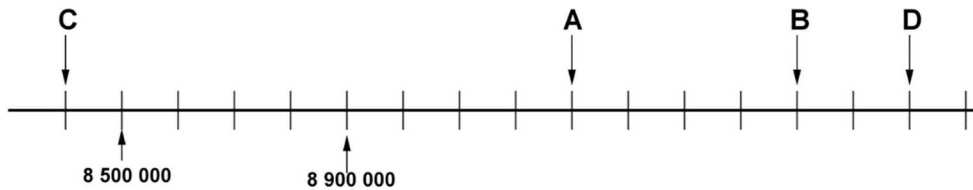
6. Associe chaque lettre placée sur la droite graduée approximativement au nombre correspondant :



- a. 425 000 => _____ b. 252 000 => _____
 c. 151 000 => _____ d. 493 000 => _____

7. Utilise la droite graduée ci-dessous pour trouver :

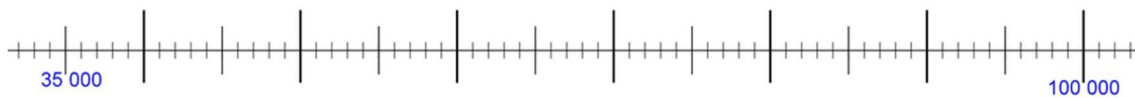
Les nombres A ; B ; C et D



- Nombre A = _____ Nombre B = _____
 Nombre C = _____ Nombre D = _____

8. place les nombres ci-dessous sur la droite graduée

- A : 50 000 B : 80 000 C : 76 000 D : 62 000



9. place les nombres ci-dessous sur la droite graduée

- M : 200 000 N : 60 000 O : 440 000 P : 880 000



10. place approximativement les nombres ci-dessous sur la droite graduée

- A ▶ 456 732 B ▶ 600 043 C ▶ 753 200 D ▶ 350 012

